



UNIVERSIDAD AUTÓNOMA DE MADRID
PRUEBA DE ACCESO A LA UNIVERSIDAD PARA MAYORES DE 25 AÑOS
Convocatoria **2017**

ESPECÍFICA

MATERIA: GEOGRAFÍA DE ESPAÑA

OPCIÓN A

INSTRUCCIONES GENERALES Y VALORACIÓN

INSTRUCCIONES: Dispone de dos opciones para contestar (A y B). Debe escoger exclusivamente una de ellas.

DURACIÓN: 90 minutos

CALIFICACIÓN: La puntuación total será en ambas de **10 puntos**, correspondiendo a la primera parte **1,5 puntos**, a la segunda **4 puntos**, a la tercera **2,5 puntos** y **2 puntos** a la cuarta.

OPCIÓN A

1ª PARTE

Entre los 8 términos geográficos siguientes **elija 6 y defínalos**.

Curva de nivel, Tratado de Roma, Erosión, Bosque perennifolio, Bancal, Migración, Pesca de bajura, Renta per capita.

2ª PARTE

LA ACTIVIDAD AGRARIA EN ESPAÑA. Desarrolle, de manera sintética, el tema propuesto, atendiendo al menos a:

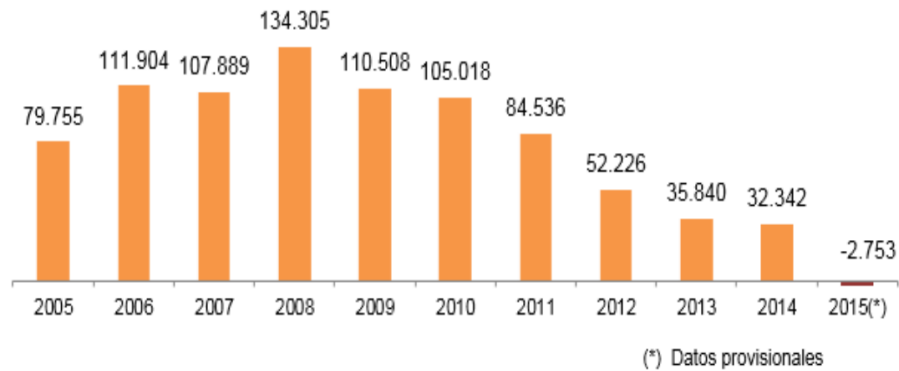
- Condicionantes ecológicos y la importancia de la localización.
- Producción y la importancia de las exportaciones.
- Transformaciones recientes: tendencia del sector primario.
- Descripción de los principales paisajes rurales.

3ª PARTE

Comentario del gráfico de barras sobre el crecimiento vegetativo de la población del 2005 al 2015 en España:

Realice un comentario que recoja: **EL CRECIMIENTO VEGETATIVO DE LA POBLACIÓN ESPAÑOLA DESDE EL 2005 AL 2015 (valores absolutos)**. Atendiendo al menos a:

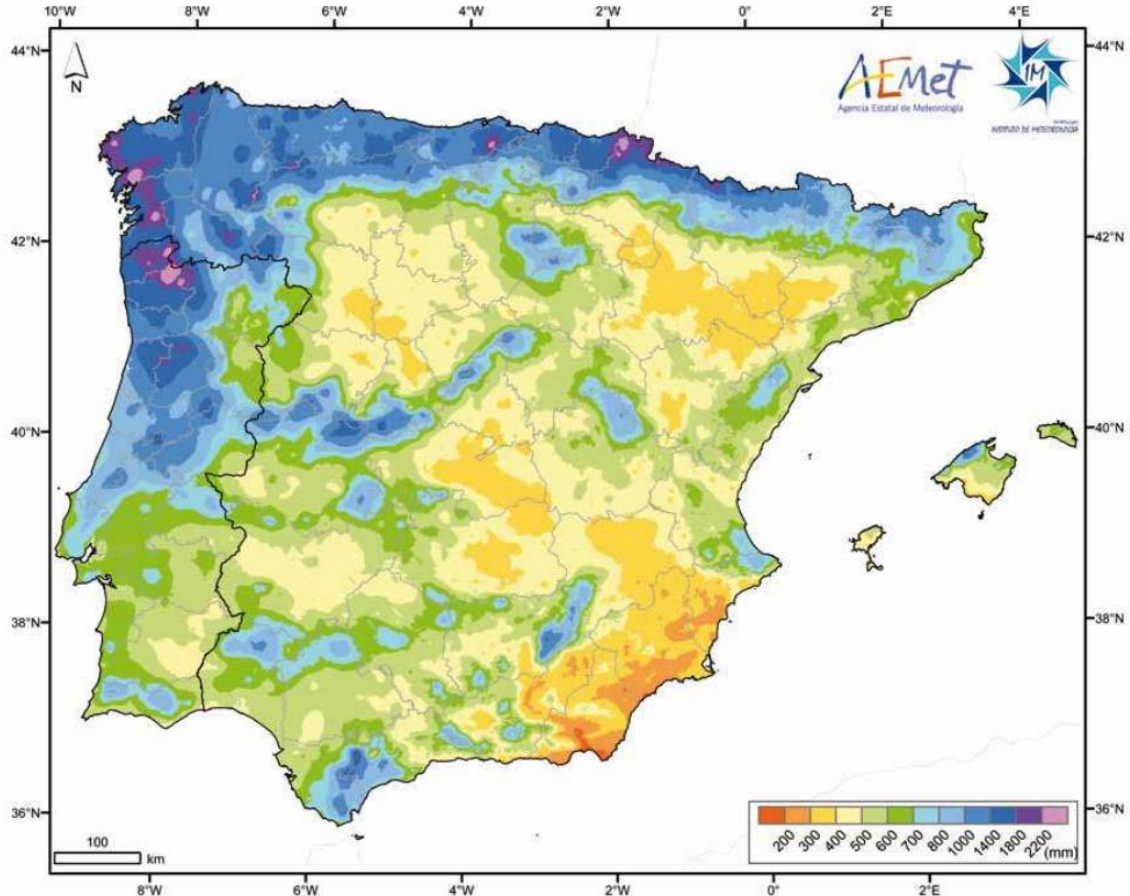
- El concepto de crecimiento vegetativo y su importancia geodemográfica.
- La distribución de la población desde el 2005 al 2015.
- Consecuencias que se pueden apreciar de esta distribución.



Fuente: INE, Estadísticas del Movimientos Natural de la Población de 2015 (provisionales)

4ª PARTE

A partir del mapa adjunto, que recoge **LA PRECIPITACIÓN MEDIA TOTAL ANUAL DE 1971 AL 2000**, enumere las 5 provincias en las que predominen las precipitaciones con más de 1400mm de precipitación anual, y otras 5 con menos de 400mm de precipitación anual, y exponga las razones que explican esa distribución.



Fuente: Atlas Climático Ibérico. Temperatura del aire y precipitación (1971-2000), 2011.



UNIVERSIDAD AUTÓNOMA DE MADRID
PRUEBA DE ACCESO A LA UNIVERSIDAD PARA MAYORES DE 25 AÑOS
Convocatoria **2017**

ESPECÍFICA

MATERIA: GEOGRAFÍA DE ESPAÑA

OPCIÓN B

1ª PARTE

Entre los 8 términos geográficos siguientes **elija 6 y defínalos**.

Isobara, Fondos estructurales, Anticiclón, Desertificación, Migración, Agricultura extensiva, Industria pesada, Plano irregular.

2ª PARTE

LOS RIESGOS NATURALES EN ESPAÑA. Desarrolle, de manera sintética, el tema propuesto, atendiendo al menos a:

- Tipos de riesgos o problemas.
- Factores físicos que los provocan.
- Consecuencias sobre el medio físico y humano. Y prevención.

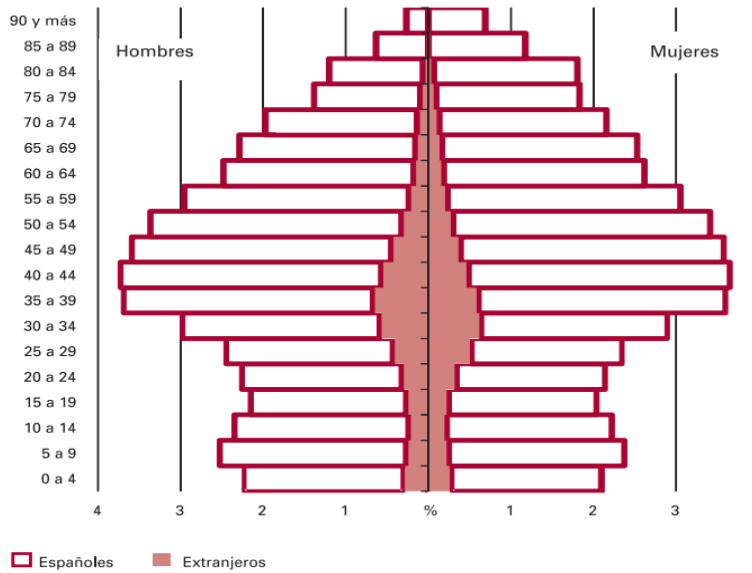
3ª PARTE

Comentario de la pirámide de población de España de 2015:

Realice un comentario que recoja: **LA PIRÁMIDE DE POBLACIÓN DE ESPAÑA A 1 DE ENERO 2015.** Atendiendo al menos a:

- El concepto de distribución de la población por edades, sexo y nacionalidad. Y su importancia geodemográfica.
- Descripción de su forma, de las distintas entalladuras que se aprecian en ella.
- Consecuencias que se pueden apreciar de la distribución de la población por edades, sexo y nacionalidad.

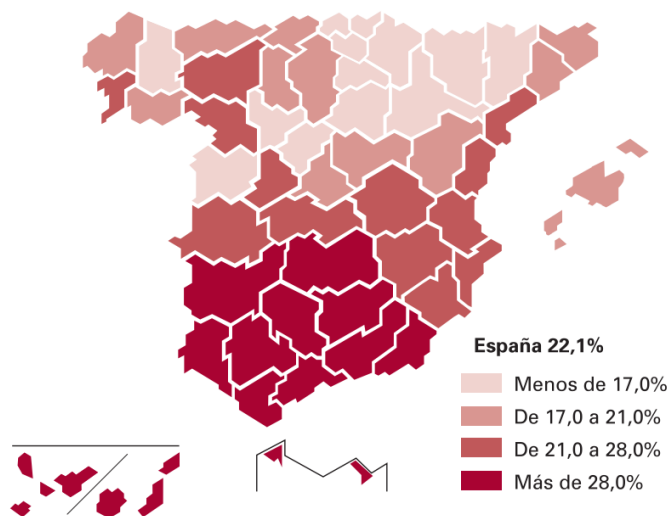
2.1.G.1. Piramide de población de España. A 1 de enero de 2015



Fuente: INE, Padrón Municipal de Habitantes, Anuario Estadístico de España, 2016

4ª PARTE

A partir del mapa adjunto, que recoge **LA DISTRIBUCIÓN DE LA TASA DE PARO EN ESPAÑA EN EL 2015**, escoja 5 provincias con la Tasa por encima del 28%, y elija 5 provincias con una Tasa por debajo del 17%, además exponga las razones que explican esa distribución.



Fuente: INE, Encuesta de Población Activa, Anuario Estadístico de España, 2016