



UNIVERSIDAD AUTÓNOMA DE MADRID
PRUEBA DE ACCESO A LA UNIVERSIDAD PARA MAYORES DE 25 AÑOS
Convocatoria **2016**

ESPECÍFICA

MATERIA: GEOGRAFÍA DE ESPAÑA

INSTRUCCIONES GENERALES Y VALORACIÓN

INSTRUCCIONES: Dispone de dos opciones para contestar (A y B). Debe escoger exclusivamente una de ellas.

DURACIÓN: 90 minutos

CALIFICACIÓN: La puntuación total será en ambas de **10 puntos**, correspondiendo a la primera parte **1,5 puntos**, a la segunda **4 puntos**, a la tercera **2,5 puntos** y **2 puntos** a la cuarta.

OPCIÓN A

1ª PARTE

Entre los 8 términos geográficos siguientes **elija 6 y defínalos**.

Gota fría, Umbría, Agroindustria, Baby boom, Continentalidad, Vegetación esclerófila, Revolución industrial, Inmigración.

2ª PARTE

LOS PAISAJES INDUSTRIALES. Desarrolle, de manera sintética, el tema propuesto, atendiendo al menos a:

- Concepto de paisaje industrial y breve historia de la industria en España, principales focos
- Los paisajes viejos: paisajes negros, los metropolitanos y las zonas de urgente reindustrialización (ZUR)
- Los paisajes nuevos: los asentamientos periféricos, la industrialización en áreas rurales, los parques tecnológicos y empresariales.

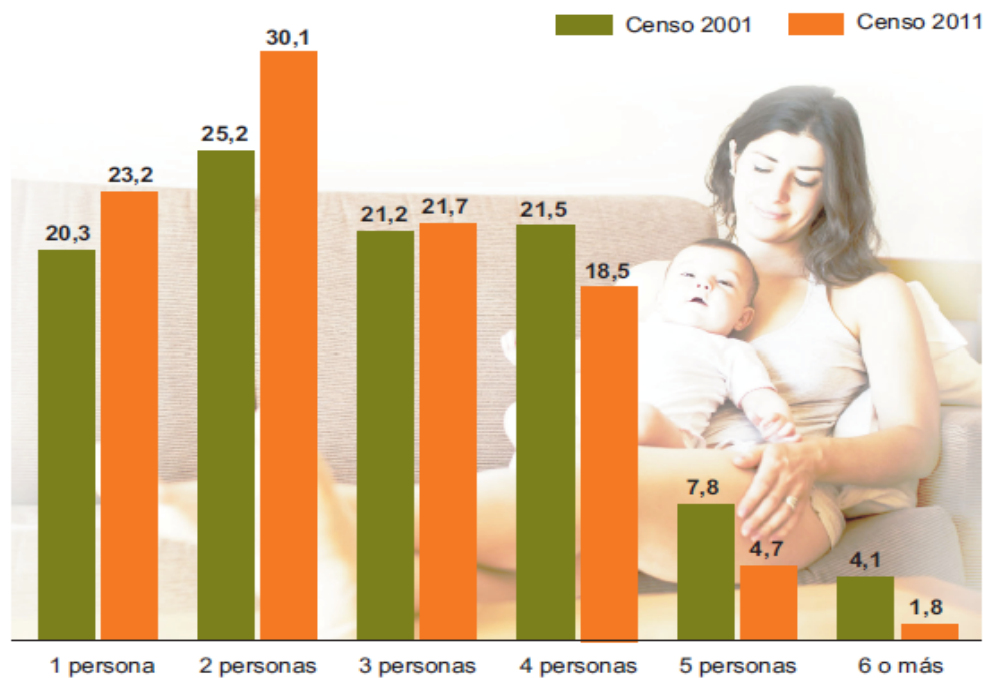
3ª PARTE

Comentario del gráfico de barras sobre la distribución de los hogares en España según el número de miembros (en valores porcentuales, %), comparando la situación en el 2001 y el 2011:

Realice un comentario que recoja: **LOS HOGARES SEGÚN EL NÚMERO DE MIEMBROS EN 2001 Y 2011 (en porcentajes %)**. Atendiendo al menos a:

- El concepto de hogar, su importancia geodemográfica.
- La distribución de los hogares según el número de personas que lo forman, primero en el 2001 y luego en el 2011, comparando la situación entre ambas fechas.
- Consecuencias que se pueden apreciar de esta distribución.

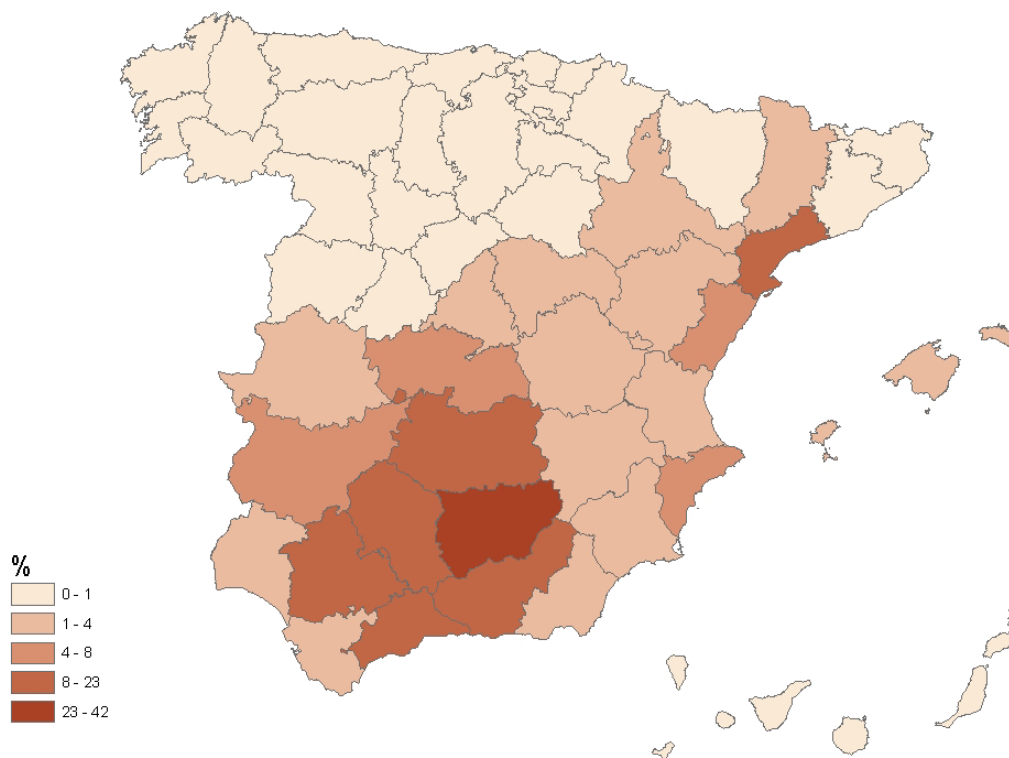
MATERIA: GEOGRAFÍA DE ESPAÑA



Fuente: INE, Censos de Población y Viviendas de 2001 y 2011

4ª PARTE

A partir del mapa adjunto, que recoge **LA SUPERFICIE DEL OLIVAR RESPECTO A LA SUPERFICIE GEOGRÁFICA PROVINCIAL (EN PORCENTAJES %) EN EL 2014**, enumere las 5 provincias con la superficie de olivar por encima de 8% y otras 5 con la superficie de olivar por debajo de 1%, y además exponga las razones que explican esa distribución.



Fuente: M° de Agricultura, Alimentación y Medio Ambiente, Encuesta de Superficies y Rendimientos de Cultivos, 2014.



UNIVERSIDAD AUTÓNOMA DE MADRID
PRUEBA DE ACCESO A LA UNIVERSIDAD PARA MAYORES DE 25 AÑOS
Convocatoria **2016**

ESPECÍFICA

MATERIA: GEOGRAFÍA DE ESPAÑA

OPCIÓN B

1ª PARTE

Entre los 8 términos geográficos siguientes **elija 6 y defínalos**.

Balance hídrico, Envejecimiento, Turismo de masas, Producto interior bruto (PIB), Riesgo natural, Agricultura extensiva, Bancal, Vientos alisios.

2ª PARTE

LA ACCIÓN HUMANA Y LOS PROCESOS DE DEGRADACIÓN AMBIENTAL. Desarrolle, de manera sintética, el tema propuesto, atendiendo al menos a:

- Los daños del ser humano a la naturaleza.
- Los principales problemas medioambientales: erosión y desertificación, contaminación atmosférica y contaminación del agua. De cada uno exponer cómo se producen, qué provocan, y cómo se pueden prevenir.

3ª PARTE

Comentario de un plano urbano de una ciudad española.:

Realice un comentario sobre: **EL PLANO URBANO DE UNA CIUDAD ESPAÑOLA.** Atendiendo al menos a:

- Descripción de los distintos tipos de estructura urbana que se aprecian, situación temporal y características urbanas de las mismas.
 - Situación de la ciudad en España, ¿a qué provincia o región pertenece? Nombre de la ciudad.

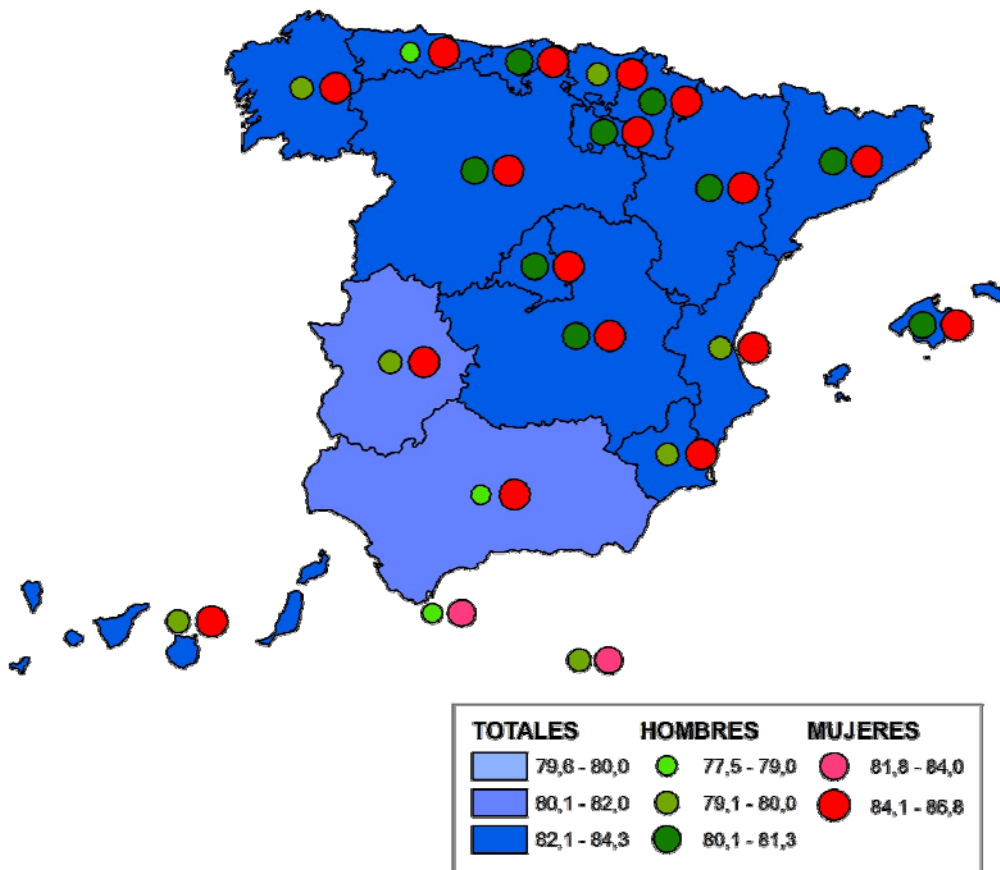
MATERIA: GEOGRAFÍA DE ESPAÑA



Fuente: Google Maps, 2016. <https://www.google.es/maps/place/Córdoba/>.

4ª PARTE

A partir del mapa adjunto, que recoge **DISTRIBUCION POR COMUNIDADES AUTÓNOMAS DE LA ESPERANZA DE VIDA AL NACER EN 2013**, enumere las 5 Comunidades Autónomas con la esperanza de vida en las mujeres por encima de 84,1 años y otras 5 Comunidades Autónomas con la esperanza de vida en los hombres por encima de 80,1 años, y exponga las razones que explican esa distribución.



Fuente: INE: Tablas de mortalidad de la población por año, comunidades y ciudades autónomas, sexo, edad. Esperanza de vida al nacer, 2013. Elaboración propia.