



**PRUEBA DE ACCESO A GRADO SUPERIOR**

*Convocatoria de septiembre de 2015*

**VERSIÓN EN CASTELLANO**

**INSTRUCCIONES DE LA PRUEBA**

- Dispone de **1 hora y 30 minutos** para realizar la prueba.
- El examen se debe presentar **escrito en bolígrafo** de tinta **AZUL** o **NEGRA**, en ningún caso se puede presentar a lápiz.
- **No** se pueden usar **teléfonos móviles** ni **aparatos electrónicos**.
- **No** se puede entrar al aula con **textos o documentos escritos**.

**DATOS PERSONALES DEL ALUMNO**

Nombre:

\_\_\_\_\_

Apellidos:

\_\_\_\_\_

DNI / NIE:

--	--	--	--	--	--	--	--	--

Calificación:

--

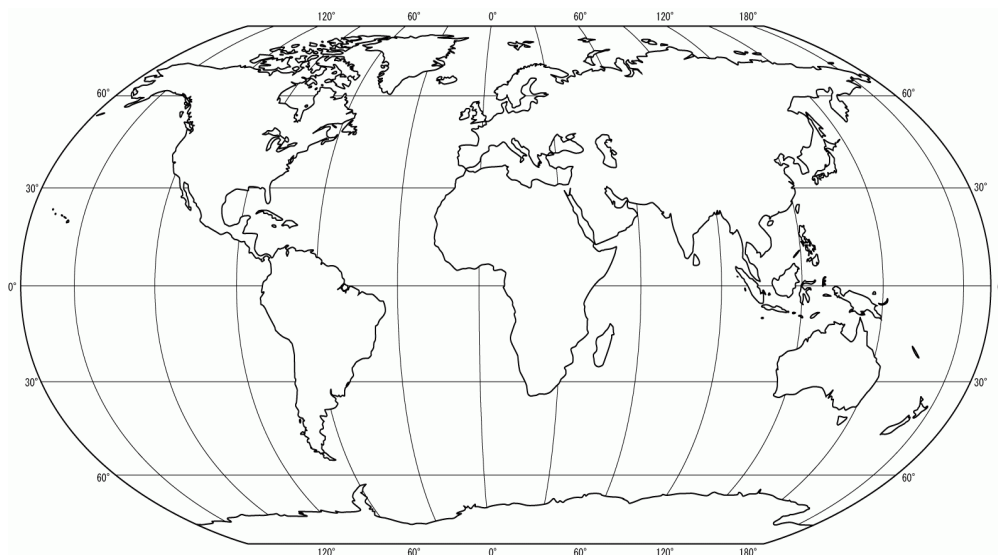
Firma del alumno:

--

**¡Buena Suerte!**

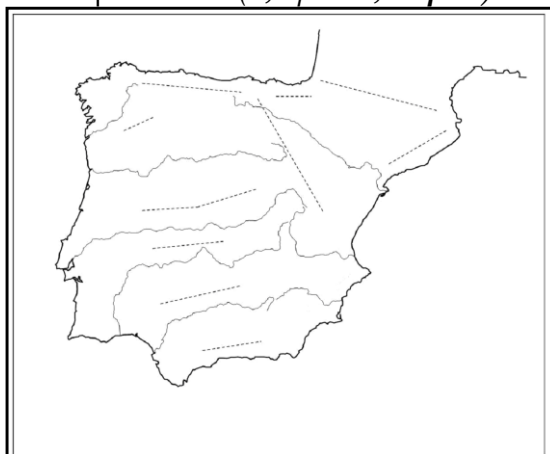
1. Contesta las cuestiones siguientes, redactando la respuesta:

- ¿Qué son las líneas imaginarias de la Tierra, qué nombre reciben y cuál es su función? (0,2 puntos)
- Definición de Ecuador, otro nombre que tiene y su función. (0,2 puntos)  
Definición de latitud. (0,2 puntos)
- Localiza y escribe, sobre el planisferio, el nombre de otras líneas imaginarias que comparten características con el Ecuador y que tiene un nombre específico. (0,4 puntos)



2. La morfología de la península Ibérica presenta diversas unidades de relieve. Localiza y escribe, sobre el mapa (usa flechas si es necesario), el nombre de:

- La Meseta septentrional y meridional (0,2 puntos, en el **mapa 1**).
- Cuatro cordilleras o montañas cerca de la costa (0,4 puntos, en el **mapa 1**), los Montes de Toledo y los Pirineos. (0,2 puntos, en cualquiera de los dos mapas)
- Una depresión de un río de la vertiente mediterránea y una depresión del sur de la península. (0,2 puntos, **mapa 2**)



Mapa 1



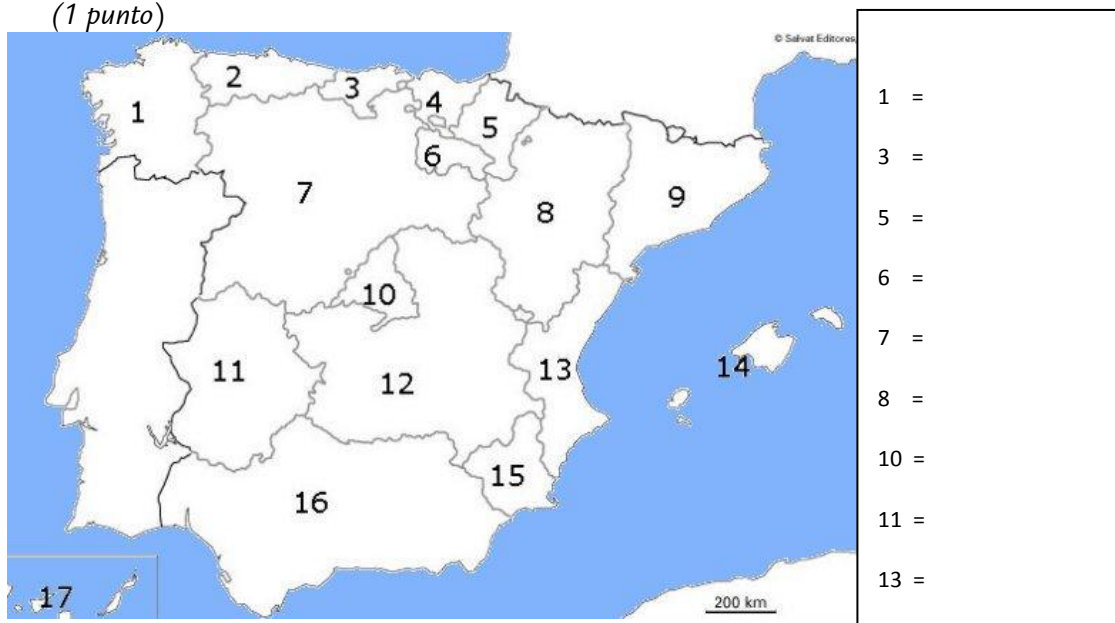
Mapa 2

3. Responde a las siguientes cuestiones:

- a) Escribe sobre el mapa el nombre de cuatro ríos de la vertiente atlántica. (0,4 puntos)
- b) Explica el régimen fluvial de los ríos de la vertiente cantábrica y justifica las causas de su comportamiento. (0,6 puntos)



4. Escribe el nombre de las comunidades autónomas indicadas con números: (1 punto)



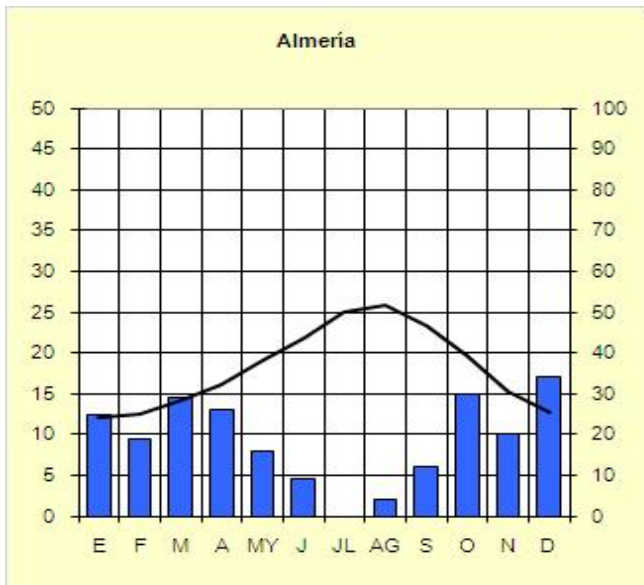
5. El Estado español es miembro de la Unión Europea. Redacta y argumenta a partir de las siguientes cuestiones:

- a) ¿Qué año ingresó España en la Unión Europea? (0,1 puntos)
- b) Este hecho hizo que se beneficiase de las subvenciones. Nombra y explica los fondos de ayuda. (0,5 puntos)

c) Explica qué supuso la introducción de la moneda única (Euro) a la economía española, las ventajas y los inconvenientes. (0,4 puntos)

6. Interpreta el climograma de Almería, a partir de las preguntas siguientes:

- a) Características de este dominio climático: precipitaciones, temperaturas, cambios estacionales, amplitud térmica. (0,5 puntos)
- b) ¿De qué clima se trata? (0,2 puntos)
- c) Comunidad autónoma a la que pertenece Almería. (0,1 puntos)
- d) Actividad económica principal de la provincia. (0,2 puntos)



Almería, 18 m, climograma 1

	E	F	M	A	MY	J	JL	AG	S	O	N	D	Media/pp total
°C	12,1	12,6	14,2	16	19	21,9	25	25,8	23,3	19,8	15,3	12,8	18,1
mm	25	19	29	26	16	9	0	4	12	30	20	34	227

7. Contesta acerca de las Islas Baleares:

- a) ¿Cuáles son las instituciones básicas autonómicas a nivel de toda la comunidad autónoma de las Islas Baleares? (0,3 puntos)
- b) ¿Cómo se denomina la institución propia de gobierno de cada una de las cuatro islas mayores? (0,2 puntos)
- c) Relaciona cada característica (número) con la isla (letra) que le corresponde: (0,5 puntos)

1.- Los “Amunts” y las sierras de Portmany	a.- Mallorca	( 1, )
2.- Parque Natural de la Albufera “des Grau”	b.- Menorca	( 2, )
3.- Relieve suave, punto más alto no supera 200m	c.- Ibiza	( 3, )
4.- “Tramuntana” y “Migjorn” dividen la isla	d.- Formentera	( 4, )
5.- El torrentes son los más largos de las islas		( 5, )

8. Contesta y redacta a partir de las siguientes preguntas:

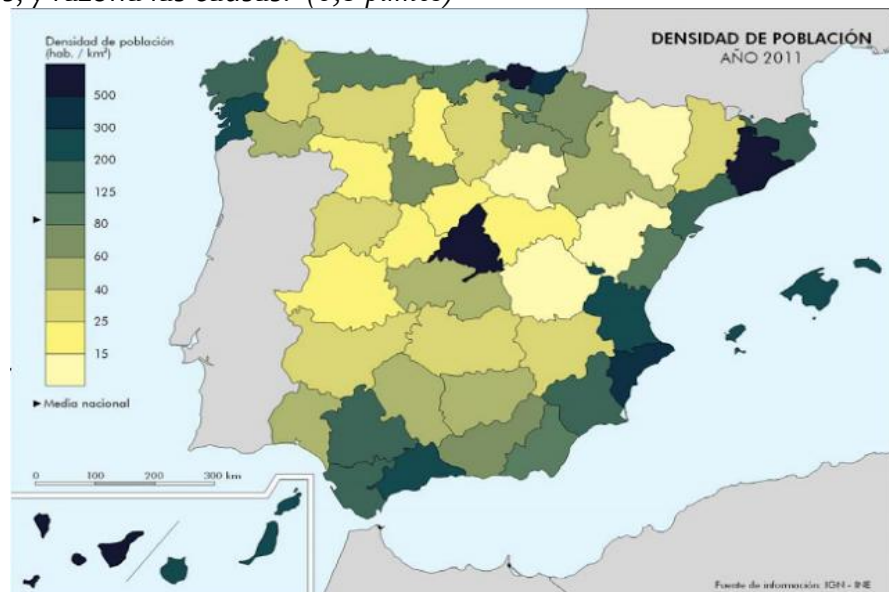
- Definición de sector económico. (0,2 puntos)
- ¿Cuáles son los sectores económicos? (0,3 puntos)
- Función del sector secundario. (0,3 puntos)
- Actividades económicas que se incluyen dentro del sector secundario. (0,2 puntos)

9. Indica si son verdaderas (V) o falsas (F) las frases siguientes que hacen referencia al bosque mediterráneo (0,2 puntos, 0,05 cada una) y explica cada una de tus respuestas. (0,8 puntos)

- ( ) Las especies más características del bosque mediterráneo son el encino y el alcornoque (0,05 puntos). Explica las características de las especies del bosque mediterráneo (0,2 puntos).
- ( ) El bosque mediterráneo no está preparado para la sequía estival y necesita suficiente agua (0,05 puntos). Explica (0,2 puntos).
- ( ) El bosque mediterráneo se encuentra en el noroeste de la península Ibérica, en su latitud más septentrional y en su longitud oeste (0,05 puntos). Argumenta (0,2 puntos).
- ( ) Maquia, garriga y estepa (palmito, espárrago, etc.) son característicos del bosque mediterráneo (0,05 puntos). Desarrolla (0,2 puntos).

10. Interpreta el mapa sobre la distribución de la población:

- Define el concepto de densidad de población. (0,2 puntos)
- Cita seis de las provincias más pobladas y di dónde se localizan. (0,3 puntos)
- Relaciona qué provincias se encuentran más altamente pobladas y cuáles menos, y razona las causas. (0,5 puntos)



Fuente: Dpto. Geografía y Ordenación del Territorio, Universidad de Zaragoza a partir de datos del Instituto Nacional de Estadística (España) y en colaboración con el Atlas Nacional de España, Instituto Geográfico Nacional.