

**PRUEBA DE ACCESO A CICLOS FORMATIVOS DE GRADO SUPERIOR  
PARTE ESPECÍFICA CIENCIAS E INGENIERIA  
CONVOCATORIA 2018**

*RESOLUCIÓN 35/2018 de 13 de febrero*

---

**DIBUJO TÉCNICO**

**CALIFICACIÓN**

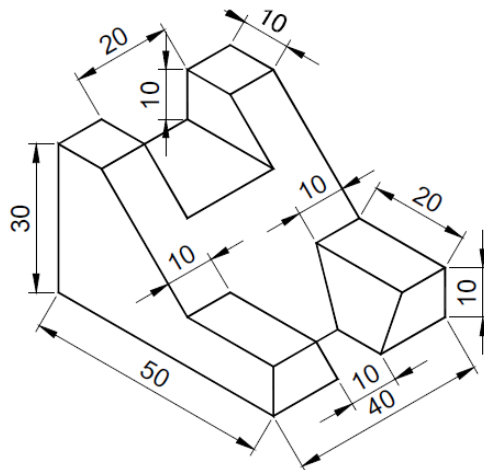
**APELLIDOS** .....

**NOMBRE** .....

**DNI/TIE** .....

---

1.- Dibujar, según norma UNE, las vistas necesarias para representar




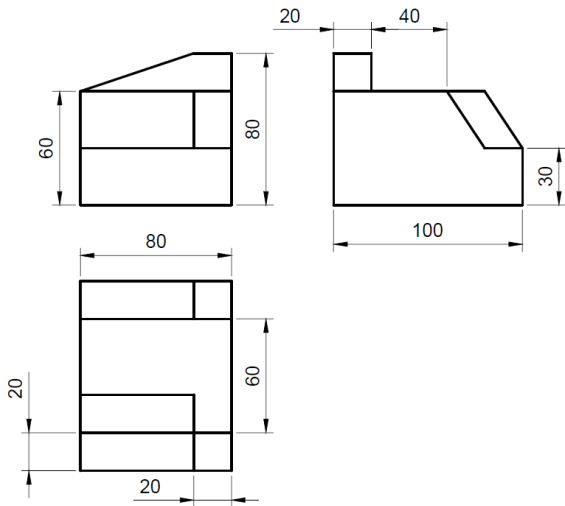
**PRUEBA DE ACCESO A CICLOS FORMATIVOS DE GRADO SUPERIOR  
PARTE ESPECÍFICA CIENCIAS E INGENIERIA  
CONVOCATORIA 2018**

*RESOLUCIÓN 35/2018 de 13 de febrero*

---

**DIBUJO TÉCNICO**

2.- Dibuje la perspectiva isométrica del objeto dado por sus vistas.



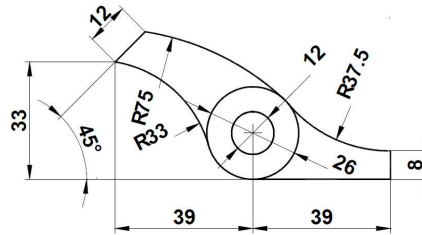
**PRUEBA DE ACCESO A CICLOS FORMATIVOS DE GRADO SUPERIOR**  
**PARTE ESPECÍFICA CIENCIAS E INGENIERIA**  
**CONVOCATORIA 2018**

*RESOLUCIÓN 35/2018 de 13 de febrero*

---

**DIBUJO TÉCNICO**

3.- Reproducir la figura a escala 3/2, indicando claramente los centros y puntos de tangencias de los diferentes arcos de enlace



**PRUEBA DE ACCESO A CICLOS FORMATIVOS DE GRADO SUPERIOR  
PARTE ESPECÍFICA CIENCIAS E INGENIERIA  
CONVOCATORIA 2018**

*RESOLUCIÓN 35/2018 de 13 de febrero*

---

**DIBUJO TÉCNICO**

4.- Dibuja las circunferencias tangentes a la circunferencia dada O y que pase por M y N

