


PRUEBAS DE ACCESO A CICLOS FORMATIVOS DE GRADO SUPERIOR

 Convocatoria de 29 de mayo (*Resolución de 16 de febrero de 2020, BOR de 21 de febrero*)

PARTE ESPECÍFICA: OPCIÓN HUMANIDADES Y CIENCIAS SOCIALES	DOS MATERIAS DE LA OPCIÓN: - Tecnología de la Información y de la Comunicación - Economía de la Empresa - Psicología - Geografía	GEOGRAFÍA
---	---	------------------

DATOS DEL ASPIRANTE	CALIFICACIÓN
Apellidos: _____ Nombre: _____ DNI: _____ Instituto de Educación Secundaria: _____	

INSTRUCCIONES GENERALES

- Mantenga su DNI en lugar visible durante la realización del ejercicio.
- Lea detenidamente los enunciados antes de responder.
- Realice primero aquellos ejercicios que tenga seguridad en su resolución. Deje para el final aquellos que tenga dudas.
- Cuide la presentación y escriba la solución de forma ordenada.
- Puede utilizar calculadora no programable.
- Entregue esta hoja cuando finalice el ejercicio.
- Al finalizar el ejercicio deberá enumerar las hojas y firmar en la última.

Realización:

- La duración del ejercicio es de dos horas: de 16:45 a 18:45 horas.

FAMILIAS PROFESIONALES A LAS QUE DA ACCESO

- Administración y gestión
- Comercio y marketing
- Hostelería y turismo
- Servicios socioculturales y a la comunidad

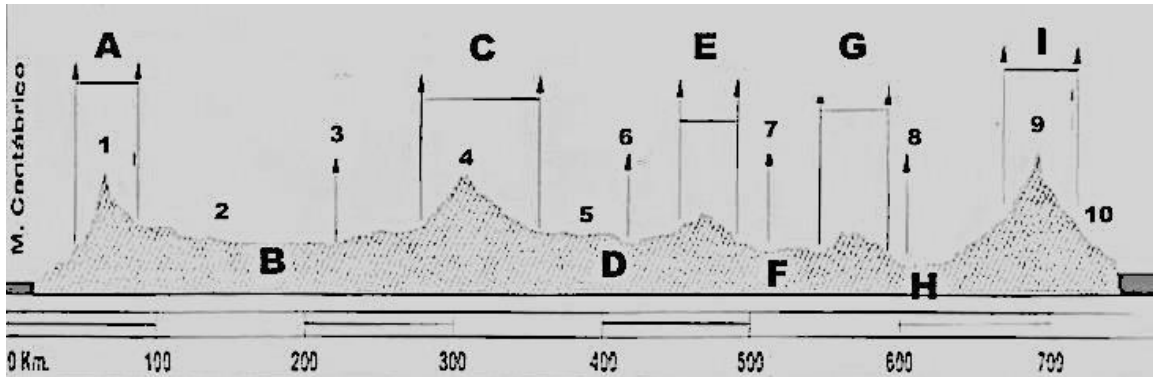
Criterios de calificación de Geografía:

El ejercicio se valora sobre un total de 10 puntos. La pregunta 1ª vale 4 puntos. El resto 2 puntos. Se valorará la corrección expositiva, el orden y la claridad en la redacción. Se tendrán en cuenta las incorrecciones ortográficas -descontándose 0,1 puntos por cada falta de ortografía y/o ausencia de tildes hasta un máximo de 1 punto- las contradicciones y los errores. Se valorará muy positivamente la precisión terminológica y la riqueza de vocabulario. En los temas y preguntas prácticas se primará la deducción y argumentación razonadas.

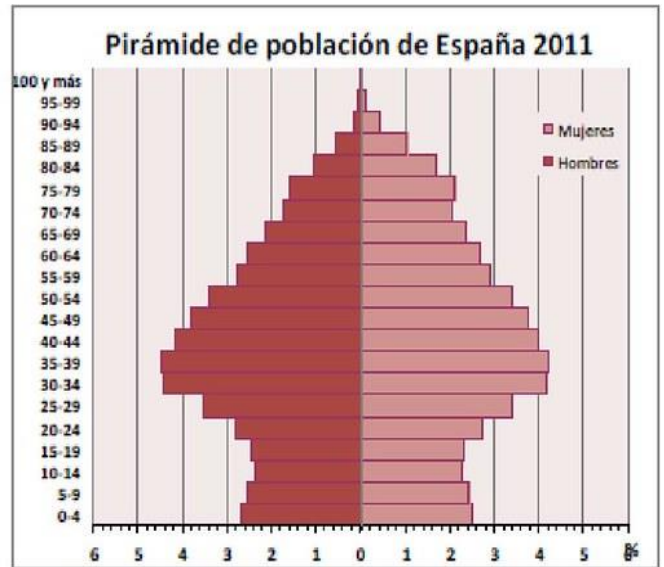
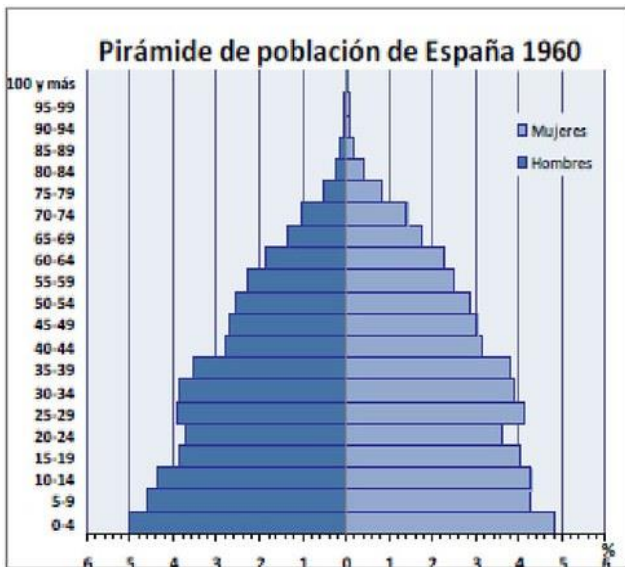


Gobierno de La Rioja

1) TEMA (4 PUNTOS): A partir del siguiente perfil topográfico, describe someramente las grandes unidades del relieve peninsular que aparecen en él.



2) EJERCICIO PRÁCTICO 1 (2 PUNTOS): Compara las siguientes pirámides de población atendiendo a las siguientes cuestiones:



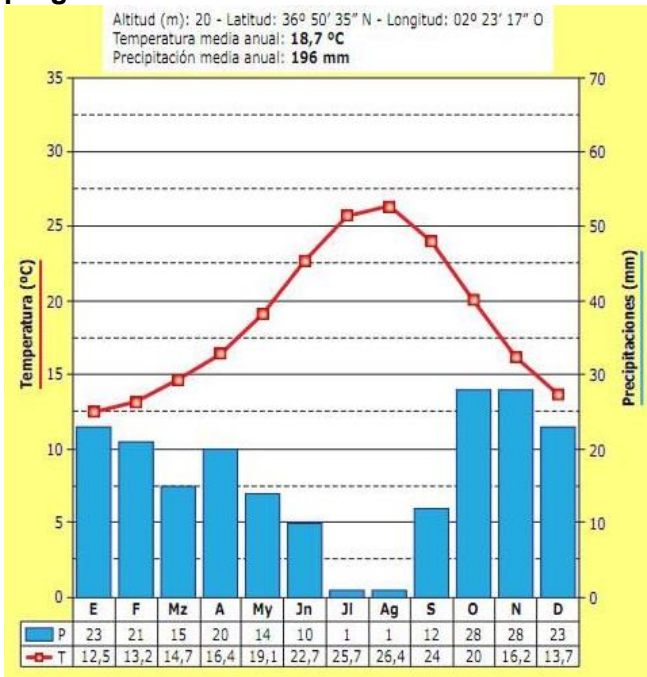
Fuente: Instituto Nacional de Estadística. Elaboración: R. Luque Revuelto

- Forma de cada una y explicación del motivo
- Comentario de la estructura por sexo
- Comentario de la estructura por edad
- Sucesos demográficos destacados y perspectivas de futuro



**Gobierno
de La Rioja**

3) EJERCICIO PRÁCTICO 2 (2 PUNTOS): A la vista del siguiente climograma responde a las preguntas:



a) Descripción de la temperatura:

b) Descripción de las precipitaciones:

c) Análisis de la aridez:

d) Deducción del tipo de clima:

e) Localización geográfica:

4) DEFINICIONES (2 PUNTOS): Define con claridad y precisión cuatro de los siguientes conceptos:

Cliserie, PAC, Desertificación, Presión atmosférica, Éxodo rural, Dehesa.