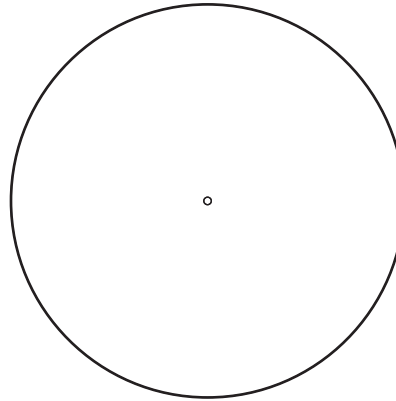


DEBUXO TÉCNICO

1.- Dibuja las rectas tangentes a la circunferencia que pasen por el punto P.

1.- *Debuxa as rectas tanxentes á circunferencia que pasen polo punto P.*

CALIFICACIÓN : 3 PUNTOS

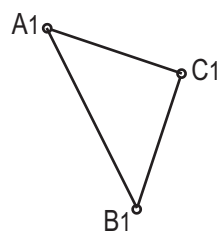
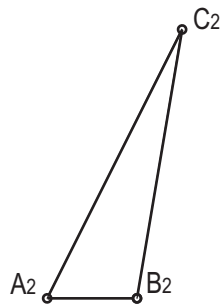


P

2.- Dibuja las trazas del plano que define el triángulo ABC.

2.- *Debuxa as trazas do plano que define o triángulo ABC.*

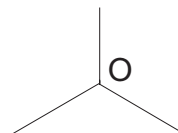
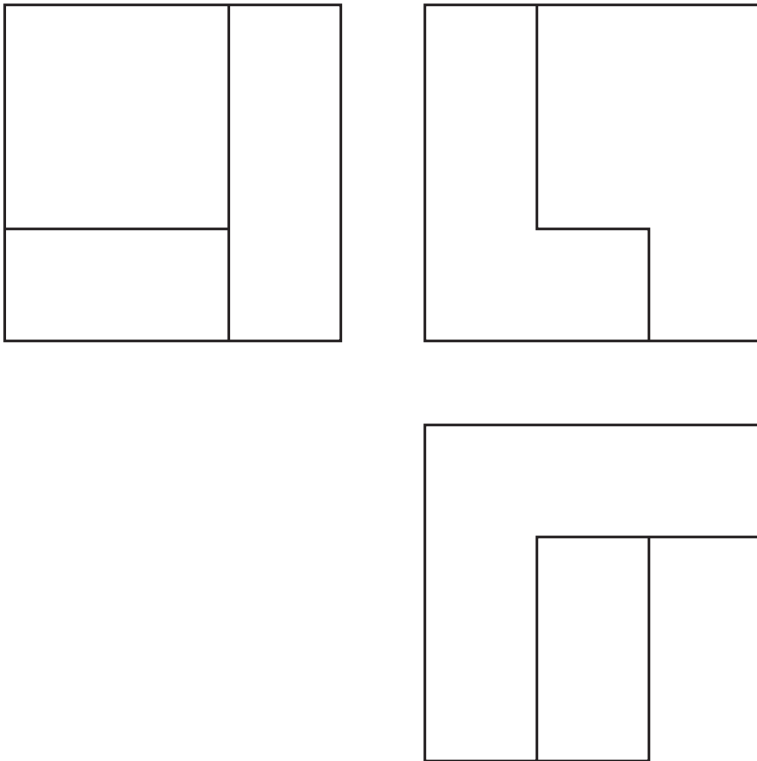
CALIFICACIÓN:3 PUNTOS



3.- Dadas las proyecciones diédricas de la figura, dibuja una isometría sin coeficientes de reducción a escala E1/1.

3.- Dadas as proxeccións diédricas da figura, debuxa unha isometría sen coeficientes de reducción a escala E 1/1.

CALIFICACIÓN: 3 PUNTOS



4.- Responde verdadero o falso:

- El sistema axonométrico utiliza proyección central.
- En la proyección paralela el centro o vértice es impropio.

4.- Responde verdadeiro ou falso:

- O sistema axonométrico utiliza proxección central.
- Na proxección paralela o centro ou vértice é impropio.

CALIFICACIÓN: 1 PUNTO