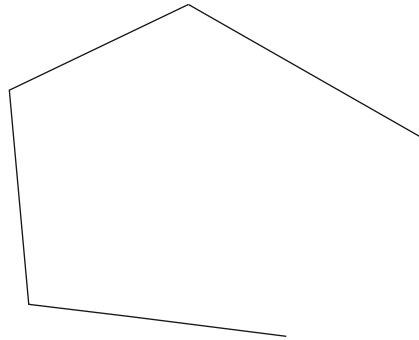


DEBUXO TÉCNICO

1.- Dibuja los arcos de circunferencia envolventes de la poligonal dada.

1.- *Debuxa os arcos de circunferencia envolventes da poligonal dada.*

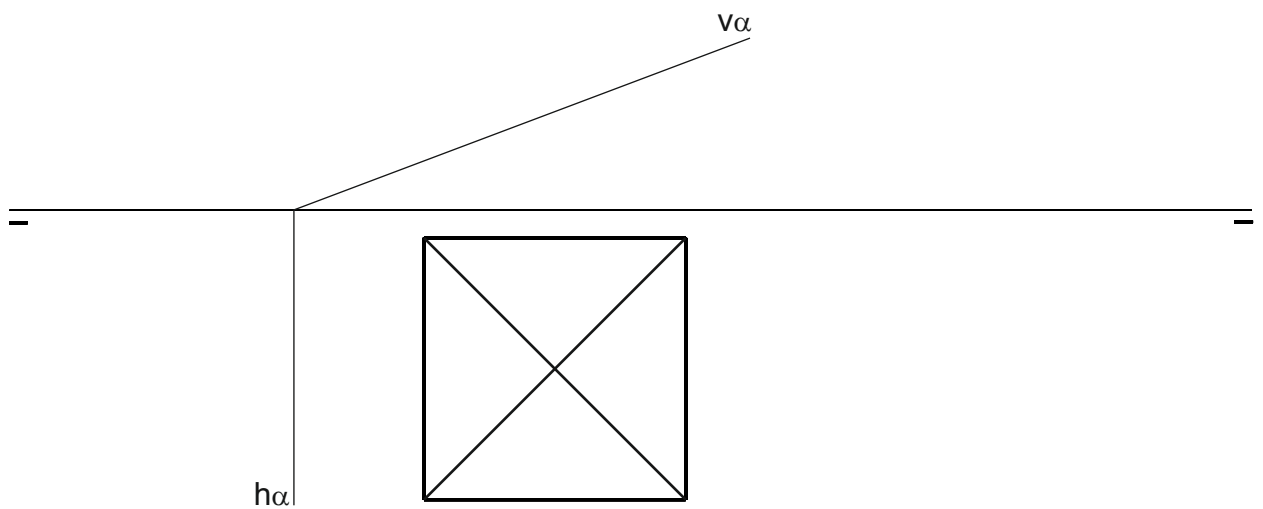
CALIFICACIÓN : 3 PUNTOS



2.- Dibuja la intersección del plano α con la pirámide recta de altura 40 mm.

2.- *Debuxa a intersección do plano α coa pirámide recta de altura 40 mm.*

CALIFICACIÓN: 3 PUNTOS

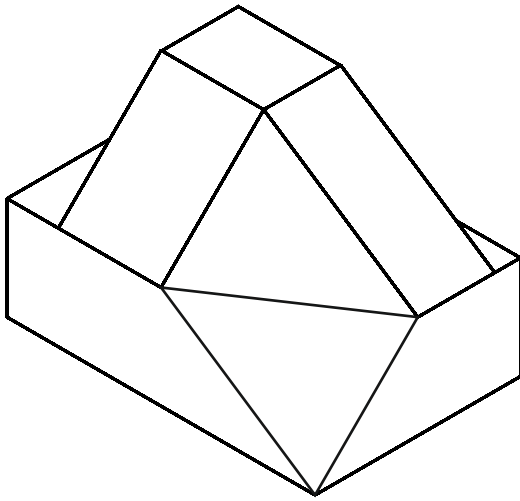


P
E
G
A
T
I
N
A

3.- Dibuja la planta y un alzado de la figura a escala E 1/1.

3.- Debuxa a planta e un alzado da figura a escala E 1/1.

CALIFICACIÓN: 3 PUNTOS



4.- Responde verdadero o falso:

- Dos rectas que se cruzan en el espacio no definen un plano.
- La hipérbola tiene un foco.

4.- Responde verdadeiro ou falso:

- Dúas rectas que se cruzan no espazo non definen un plano.*
- A hipérbola ten un foco.*

CALIFICACIÓN: 1 PUNTO